

**Федеральное агентство по образованию
Федеральная заочная физико-техническая школа
при Московском физико – техническом институте
(государственном университете)**

МАТЕМАТИКА

**Последовательности. Предел последовательности.
Предел функции. Исследование функций**

Задание №3 для 10-х классов

(2006-2007 учебный год)



г. Долгопрудный, 2006

Составитель: С.И. Колесникова, старший преподаватель кафедры высшей математики МФТИ.

Математика: задание №3 для 10-х классов (2006-2007 учебный год). - М.: МФТИ, 2006, 32 с.

Дата присылки заданий по физике и математике – 2 декабря 2006 г.

Внимание! Произошло **изменение** в лектории.

Лекции в ноябре будут прочитаны:

11 ноября – математика: Последовательность. Предел последовательности. Предел функции. Исследование функций. (Колесникова С.И.)

25 ноября – физика: Закон сохранения энергии в тепловых процессах. (Кузьмичев С.Д.)

Составитель:

Колесникова Софья Ильинична

Изд. лиц. №040060 от 21.08.96г. Подписано 14.10.06

Формат 60x90 1/16. Бумага типографская. Печать офсетная. Усл. печ. л. 2,0
Уч.-изд. л. 1,77. Тираж 2400. Заказ № 6-з.

Федеральная заочная физико-техническая школа
Московский физико-технический институт
(государственный университет)
«ФИЗТЕХ-ПОЛИГРАФ»

141700, Москов. обл., г. Долгопрудный, Институтский пер., 9
ФЗФТШ при МФТИ, тел./факс (495) 408-5145 – **заочное отделение**
тел./факс (495) 409-9351 – **очно-заочное отделение**
тел.409-9583 – **очное отделение**

***E.mail:* zftsh@pop3.mipt.ru**
Наш сайт: www.school.mipt.ru

© ФЗФТШ при МФТИ, 2006

Дорогие десятиклассники!

Содержание этого задания, быть может, выйдет за рамки обычной школьной программы, но оно очень важно для понимания всего дальнейшего материала, изучаемого в школе. Внимательно изучите текст.

§1. Бесконечные последовательности.**Арифметическая прогрессия. Геометрическая прогрессия.
Формула общего члена**

Пусть каждому натуральному числу n поставлено в соответствие некоторое число x . Это значит, что на множестве \mathbb{N} натуральных чисел задана числовая функция $x = x(n)$; эта функция называется *бесконечной числовой последовательностью*. Аргумент n этой функции записывается в виде индекса, т. е. вместо записи $x(n)$ чаще всего употребляется запись x_n . Иногда последовательность задается не на всем множестве \mathbb{N} , а на некотором конечном подмножестве. Тогда говорят о *конечной* последовательности.

Приведем примеры.

(I) 1; 1; 1; ... (т. е. $x_n = 1$ для всех n);

(II) 1; 2; 4; 8; ... (т. е. $x_n = 2^{n-1}$);

(III) последовательность, n -й член которой равен n -му знаку после запятой в десятичной записи числа $\frac{8}{33}$;

(IV) то же для числа π ;

(V) последовательность, n -й член которой равен количеству простых чисел, не превосходящих n ;

(VI) последовательность, n -й член которой равен площади правильного треугольника со стороной n .

Иногда вместо множества \mathbb{N} всех натуральных чисел бывает удобно в качестве области определения последовательности рассматривать множество всех целых чисел n таких, что $n \geq n_0$, где n_0 – фиксированное целое число (при $n_0 = 1$ получаем множество \mathbb{N}). Последовательность (II) удобно записать так: $x_n = 2^n$, $n = 0, 1, 2, 3, \dots$; последовательность $x_n = \frac{1}{n-1}$ имеет смысл рассматривать при $n \geq 2$, а после-

довательность $x_n = \sqrt{n+2}$ можно рассматривать при $n \geq -2$. Легко убедиться, что в примере (III) $x_1 = 2, x_2 = 4, x_3 = 2, x_4 = 4$ и т. д., т. е.

$x_n = 3 + (-1)^n, n \geq 1$. Ясно также, что в примере (VI) $x_n = \frac{\sqrt{3}}{4} n^2$. А вот явные формулы для общего члена последовательностей (IV) и (V) написать невозможно. Тем не менее, многие свойства этих последовательностей установлены и без формул. Таким образом, явное задание формулы общего члена не является необходимым для изучения свойств последовательности.

И все же, при любом задании последовательности в первую очередь возникает вопрос, нельзя ли выписать явно формулу общего члена. Особенно часто такой вопрос возникает, когда последовательность задана рекуррентно, т. е. даны несколько первых членов последовательности и формула, выражающая последующие члены через предыдущие. Рассмотрим примеры таких последовательностей.

§2. Арифметическая прогрессия

Числовая последовательность, каждый член которой, начиная со второго, равен предыдущему, сложенному с одним и тем же числом d , называется *арифметической прогрессией*. Число d называется *разностью* арифметической прогрессии.

Из определения следует, что $x_{n+1} = x_n + d, n = 1, 2, 3, \dots$. Таким образом, определение арифметической прогрессии задает эту последовательность рекуррентно. Формула общего члена арифметической прогрессии имеет вид:

$$x_n = x_1 + d(n-1), n = 1, 2, 3 \dots$$

Лемма 1. (характеристическое свойство арифметической прогрессии). Числовая последовательность $\{a_n\}$ является арифметической прогрессией тогда и только тогда, когда $a_n = \frac{a_{n-1} + a_{n+1}}{2}$, т. е. каждый член

последовательности, начиная со второго, является полусуммой соседних, или средним арифметическим соседних членов.

♦ Действительно, если задана арифметическая прогрессия, то

$$a_n = a_1 + d(n-1) \Leftrightarrow 2a_n = 2a_1 + 2d(n-1) \equiv$$

$$\equiv (a_1 + d(n-2)) + (a_1 + dn) = a_{n-1} + a_{n+1} \Leftrightarrow a_n = \frac{a_{n-1} + a_{n+1}}{2}.$$

И, наоборот, если для любого a_n выполнено условие $a_n = \frac{a_{n-1} + a_{n+1}}{2}$,

то $a_n = \frac{a_{n-1} + a_{n+1}}{2} \Leftrightarrow 2a_n = a_{n-1} + a_{n+1} \Leftrightarrow$

$a_n - a_{n-1} = a_{n+1} - a_n$. Это значит, что $\{a_n\}$ – арифметическая прогрессия.

◆

§3. Геометрическая прогрессия

Числовая последовательность, первый член которой отличен от нуля, а каждый член, начиная со второго, равен предыдущему, умноженному на одно и то же число q , не равное нулю, называется *геометрической прогрессией*. Число q называется *знаменателем* прогрессии.

Из определения следует, что $x_{n+1} = x_n q$, $n = 1, 2, 3, \dots$. Таким образом, определение геометрической прогрессии задает эту последовательность рекуррентно. Формула общего члена геометрической прогрессии имеет вид:

$$x_n = x_1 q^{n-1}, n = 1, 2, 3, \dots$$

Лемма 2. (характеристическое свойство геометрической прогрессии). Числовая последовательность ненулевых членов является геометрической прогрессией тогда и только тогда, когда $b_n^2 = b_{n-1} b_{n+1}$, т. е. квадрат каждого члена, начиная со второго, является произведением соседних.

◆ Действительно, если b_n – геометрическая прогрессия, то $b_n^2 = (b_1 q^{n-1})^2 = b_1 q^{n-2} \cdot b_1 q^n \Leftrightarrow b_n^2 = b_{n-1} b_{n+1}$.

И, наоборот, если $b_n^2 = b_{n-1} b_{n+1}$, то, разделив обе части на $b_n b_{n-1}$, получим $\frac{b_n}{b_{n-1}} = \frac{b_{n+1}}{b_n}$. Это означает, что $\{b_n\}$ – геометрическая прогрессия.

Если все элементы геометрической прогрессии положительны, то $b_n = \sqrt{b_{n-1} b_{n+1}}$. И тогда последовательность $\{b_n\}$ *положительных* членов является геометрической прогрессией тогда и только тогда, когда $b_n = \sqrt{b_{n-1} b_{n+1}}$, т. е. каждый член последовательности является средним геометрическим соседних. ◆

Пример 1. (МГУ, 2001, географ. ф-т) Числа a, b, c в указанном порядке образуют арифметическую прогрессию, а числа $a - c, c - b, 2a$ в указанном порядке образуют геометрическую прогрессию. Какое минимальное значение может принимать выражение $2a^2 - 4b^2 - c^2 + 4bc + 6a$?

♦ По условию, a, b, c - арифметическая прогрессия, $a - c, c - b, 2a$ - геометрическая прогрессия. Воспользуемся леммами 2 и 1 (характеристическими свойствами геометрической и арифметической прогрессий):

$$\begin{aligned} & \left\{ \begin{array}{l} b = \frac{a+c}{2}, \\ (c-b)^2 = 2a(a-c) \end{array} \right. \Leftrightarrow \left\{ \begin{array}{l} b-c = \frac{a-c}{2}, \\ (c-b)^2 = 2a(a-c) \end{array} \right. \Leftrightarrow \\ & \Leftrightarrow \left\{ \begin{array}{l} b-c = \frac{a-c}{2}, \\ \left(\frac{a-c}{2}\right)^2 = 2a(a-c) \end{array} \right. \Leftrightarrow \left\{ \begin{array}{l} b-c = \frac{a-c}{2}, \\ (a-c)(a-c-8a) = 0 \end{array} \right. \Leftrightarrow \left\{ \begin{array}{l} c = a, \\ b = a; \\ c = -7a, \\ b = -3a. \end{array} \right. \end{aligned}$$

Тогда заданное выражение примет вид:

$$\begin{aligned} 2a^2 - 4b^2 - c^2 + 4bc + 6a &= \\ \left[\begin{array}{l} 2a^2 - 4a^2 - a^2 + 4a^2 + 6a = (a+3)^2 - 9; \\ 2a^2 - 4a^2 - 9a^2 + 12a^2 + 6a = (a+3)^2 - 9 \end{array} \right] &= (a+3)^2 - 9 \geq -9. \end{aligned}$$

Видно, что минимальное значение выражения равно -9 . **Ответ.** -9 . ♦

§ 4. “Решение” некоторых рекуррентных соотношений

Последовательность вида $x_1 = a, x_{n+1} = bx_n + c$.

Лемма 3. Пусть последовательность для $n = 1, 2, 3, \dots$ задана рекуррентно: $x_1 = a, x_{n+1} = bx_n + c, b \neq 1$.

Тогда формулу общего члена всегда можно привести к виду

$$x_n = \left(a - \frac{c}{1-b} \right) b^{n-1} + \frac{c}{1-b}.$$

Если $b = 1$, то последовательность является арифметической прогрессией.

Если $c = 0$, то последовательность является геометрической прогрессией.

Интерес представляет случай, когда $b \neq 1$, $c \neq 0$. Любопытно, что тогда последовательность может быть сведена к некоторой *геометрической* прогрессии.

◆ Преобразуем рекуррентное соотношение (добавим и вычтем некоторое пока произвольное число d):

$$x_{n+1} - d = b(x_n - d + d) + c - d \Leftrightarrow (x_{n+1} - d) = b(x_n - d) + c + bd - d.$$

При заданных b и c всегда можно подобрать такое d , что

$$bd + c - d = 0: \quad bd + c - d = 0 \Leftrightarrow d = \frac{c}{(1-b)}.$$

Тогда последовательность $\left\{x_n - \frac{c}{1-b}\right\}$ будет геометрической прогрессией со знаменателем

$$q = b, \quad \text{т. е.} \quad x_{n+1} - d = b(x_n - d).$$

Отсюда следует, что $\left(x_n - \frac{c}{1-b}\right) = \left(x_1 - \frac{c}{1-b}\right)b^{n-1} \Leftrightarrow x_n = \left(a - \frac{c}{1-b}\right)b^{n-1} + \frac{c}{1-b}$, что и

требовалось доказать. ◆

Пример 2. Найти формулу общего члена последовательности, заданной рекуррентно: $x_1 = 1$; $x_{n+1} = 3x_n + 1$, $n = 1, 2, 3, \dots$

Решение. Перепишем соотношение в виде

$$x_{n+1} = 3x_n + 1 \Leftrightarrow x_{n+1} - a + a = 3(x_n - a + a) + 1 \Leftrightarrow x_{n+1} - a = 3(x_n - a) + 1 + 2a.$$

Выберем число a так, чтобы последовательность x_n была геометрической прогрессией, т. е. $a = -\frac{1}{2}$ и $x_{n+1} + \frac{1}{2} = 3\left(x_n + \frac{1}{2}\right) \Leftrightarrow$

$$\Leftrightarrow x_n + \frac{1}{2} = 3^{n-1}\left(x_1 + \frac{1}{2}\right) \Leftrightarrow x_n = -\frac{1}{2} + 3^{n-1}\left(1 + \frac{1}{2}\right) \Leftrightarrow x_n = \frac{3^n - 1}{2}.$$

Ответ: $\frac{3^n - 1}{2}$.

§ 5. Последовательность, заданная рекуррентным линейным однородным соотношением

$$x_1 = a; x_2 = b; x_{n+2} = cx_{n+1} + dx_n, n = 1, 2, \dots$$

Пусть последовательность для $n = 1, 2, 3, \dots$ задана рекуррентно:

$$x_1 = a; x_2 = b; x_{n+2} = cx_{n+1} + dx_n, n = 1, 2, \dots$$

Такого типа соотношения называются линейными однородными соотношениями.

Прежде всего обратим внимание на то, что они обладают следующими двумя свойствами (свойствами линейности).

1. Если последовательности y_n и z_n удовлетворяют однородному линейному рекуррентному соотношению, т. е. $y_{n+2} - cy_{n+1} - dy_n \equiv 0$ и $z_{n+2} - cz_{n+1} - dz_n \equiv 0$, то и сумма $y_n + z_n$ удовлетворяет этому соотношению.

◆ Действительно, подставим $(y_n + z_n)$ в соотношение $x_{n+2} = cx_{n+1} + dx_n$:

$$(y_{n+2} + z_{n+2}) - c(y_{n+1} + z_{n+1}) - d(y_n + z_n) \equiv (y_{n+2} - cy_{n+1} - dy_n) + (z_{n+2} - cz_{n+1} - dz_n) \equiv 0. \blacklozenge$$

2. Если последовательность x_n удовлетворяет однородному линейному рекуррентному соотношению, то при любом A последовательность $y_n = Ax_n$ тоже удовлетворяет этому соотношению.

◆ Действительно, подставим $y_n = Ax_n$ в соотношение $x_{n+2} = cx_{n+1} + dx_n$:

$$(Ax_{n+2}) - c(Ax_{n+1}) - d(Ax_n) = A(x_{n+2} - cx_{n+1} - dx_n) \equiv 0. \blacklozenge$$

Пусть последовательность для $n = 1, 2, 3, \dots$ задана рекуррентно:

$x_1 = a, x_2 = b, x_{n+2} = cx_{n+1} + dx_n$. Тогда, в зависимости от заданных c и d , всегда можно найти формулу общего члена.

Пусть последовательности для $n = 1, 2, 3, \dots$ задана рекуррентно:

$$x_1 = a; x_2 = b; x_{n+2} = cx_{n+1} + dx_n, n = 1, 2, \dots$$

Придется рассмотреть три возможности – леммы 4, 5.

Лемма 4. Если $c^2 + 4d > 0$, то формулу общего члена последовательности $x_1 = a; x_2 = b; x_{n+2} = cx_{n+1} + dx_n, n = 1, 2, \dots$

всегда можно привести к виду $x_n = Aq_1^n + Bq_2^n$, где $q_i, i = 1, 2$ – различные корни характеристического уравнения $q^2 - cq - d = 0$, а A, B определяются заданными “начальными условиями” $x_1 = a, x_2 = b$.

◆ Будем искать решение рекуррентного соотношения в виде $x_n = q^n$.

Подставим это x_n в рекуррентное соотношение:

$$q^{n+2} = cq^{n+1} + dq^n \Leftrightarrow q^2 = cq + d \Leftrightarrow q^2 - cq - d = 0.$$

Если $c^2 + 4d > 0$, то уравнение $q^2 - cq - d = 0$ имеет два различных решения q_1 и q_2 . Тогда $x_n = Aq_1^n + Bq_2^n$, в силу свойств 1 и 2, тоже будет решением. Определим A, B :

$$\begin{cases} x_1 = Aq_1 + Bq_2, \\ x_2 = Aq_1^2 + Bq_2^2 \end{cases} \Leftrightarrow \begin{cases} A = \frac{x_1q_2^2 - x_2q_2}{q_1q_2(q_2 - q_1)}, \\ B = \frac{x_2q_1 - x_1q_1^2}{q_1q_2(q_2 - q_1)} \end{cases} \Leftrightarrow \begin{cases} A = \frac{aq_2^2 - bq_2}{q_1q_2(q_2 - q_1)}, \\ B = \frac{bq_1 - aq_1^2}{q_1q_2(q_2 - q_1)} \end{cases} \quad \blacklozenge$$

Замечание. Точно так же в виде $x_n = q^n$ ищется решение рекуррентных соотношений вида

$$x_1 = a_1, x_2 = a_2, \dots, x_k = a_k, x_{n+k} = b_1x_n + b_2x_{n+1} + \dots + b_kx_{n+k-1}, n = 1, 2, \dots$$

В зависимости от корней характеристического уравнения получаем соответствующее решение.

Лемма 5. Если $c^2 + 4d = 0$, то формулу общего члена последовательности $x_1 = a; x_2 = b; x_{n+2} = cx_{n+1} + dx_n, n = 1, 2, \dots$ всегда можно привести к виду $x_n = q^n(A + Bn)$,

где q - единственный корень (кратности 2) характеристического уравнения $q^2 - cq - d = 0$, а A, B определяются заданными “начальными условиями” $x_1 = a, x_2 = b$.

◆ Будем искать решение рекуррентного соотношения в виде $x_n = q^n$.

Подставим это x_n в рекуррентное соотношение:

$q^{n+2} = cq^{n+1} + dq^n \Leftrightarrow q^2 = cq + d \Leftrightarrow q^2 - cq - d = 0$. Так как, по условию, $c^2 + 4d = 0$, то уравнение $q^2 - cq - d = 0$ имеет два одинаковых решения $q_1 = q_2 = \frac{c}{2}$ (один корень кратности 2). Обозначим единственный корень буквой q и покажем, что nq^n тоже является решением рекуррентного соотношения. Подставим nq^n в соотношение: $(n+2)q^{n+2} = c(n+1)q^{n+1} + dnq^n \Leftrightarrow (n+2)q^2 = c(n+1)q + dn \Leftrightarrow n(q^2 - cq - d)n + 2q^2 - cq = 0 \Leftrightarrow n(q^2 - cq - d)n + 2\left(\frac{c}{2}\right)^2 - c\left(\frac{c}{2}\right) \equiv 0$.

Определим A, B :

$$\begin{cases} x_1 = q(A+B) \\ x_2 = q^2(A+B \cdot 2) \end{cases} \Leftrightarrow \begin{cases} x_1 q = q^2(A+B) \\ x_2 - x_1 q = Bq^2 \end{cases} \Leftrightarrow \begin{cases} A = \frac{2x_1 q - x_2}{q^2} \\ B = \frac{x_2 - qx_1}{q^2} \end{cases} \Leftrightarrow$$

$$\begin{cases} A = \frac{2aq - b}{q^2} \\ B = \frac{b - aq}{q^2} \end{cases} \text{ Отсюда следует, что } x_n = q^n \left(\frac{2aq - b}{q^2} + \frac{b - aq}{q^2} n \right),$$

$q = \frac{c}{2}$. Утверждение доказано.

Если $c^2 + 4d < 0$, то уравнение $q^2 - cq - d = 0$ не имеет действительных решений.

Этот случай сейчас мы рассматривать не будем.

Пример 3. Последовательность x_n задана рекуррентно:

$x_1 = a; x_2 = b; x_n = \frac{1}{2}(x_{n-1} + x_{n-2}), n = 3, 4, \dots$. Найдите формулу общего члена.

◆ **Первый способ**

Найдем формулу общего члена по члена по общим правилам для лин-

нейных однородных рекуррентных соотношений: будем искать x_n в виде $x_n = \lambda^n$. Подставляем x_n в соотношение:

$$\lambda^n = \frac{1}{2}(\lambda^{n-1} + \lambda^{n-2}) \Leftrightarrow \lambda^{n-2} \left(\lambda^2 - \frac{1}{2}(\lambda + 1) \right) = 0 \Leftrightarrow$$

$$\Leftrightarrow 2\lambda^2 - \lambda - 1 = 0 \Leftrightarrow \lambda = \begin{cases} 1; \\ -\frac{1}{2}. \end{cases} \text{ Отсюда следует, что } x_n = c \cdot 1^n + d \left(-\frac{1}{2} \right)^n.$$

Найдем c, d , исходя из заданных x_1, x_2 :

$$\begin{cases} x_1 = a, \\ x_2 = b \end{cases} \Leftrightarrow \begin{cases} c + d \left(-\frac{1}{2} \right) = a, \\ c + \frac{d}{4} = b \end{cases} \Leftrightarrow \begin{cases} d = \frac{4}{3}(b - a), \\ c = \frac{a + 2b}{3}. \end{cases}$$

Поэтому $x_n = \frac{a + 2b}{3} + \frac{4(b - a)}{3} \cdot \left(-\frac{1}{2} \right)^n$.

Второй способ

Рассмотрим разность $x_n - x_{n-1}$:

$$x_n - x_{n-1} = \frac{1}{2}(x_{n-1} + x_{n-2}) - x_{n-1} \equiv \frac{x_{n-2} - x_{n-1}}{2} \equiv -\frac{1}{2}(x_{n-1} - x_{n-2}).$$

Подставляя в правую часть полученного равенства вместо n номера $n-1, n-2, \dots$, получим:

$$x_n - x_{n-1} = -\frac{1}{2}(x_{n-1} - x_{n-2}) = \left(-\frac{1}{2} \right)^2 (x_{n-2} - x_{n-3}) = \dots =$$

$$= \left(-\frac{1}{2} \right)^{n-2} (x_2 - x_1) = \left(-\frac{1}{2} \right)^{n-2} (b - a).$$

Поэтому

$$x_n = a + (x_n - a) = a + (x_n - x_{n-1}) + (x_{n-1} - x_{n-2}) + \dots + (x_2 - x_1) =$$

$$= a + (b - a) \left(\left(-\frac{1}{2} \right)^{n-2} + \left(-\frac{1}{2} \right)^{n-3} + \dots + 1 \right) = a + (b - a) \frac{\left(-\frac{1}{2} \right)^{n-1} - 1}{-\frac{1}{2} - 1} =$$

$$= a - 2(b-a) \frac{\left(-\frac{1}{2}\right)^{n-1} - 1}{3} = a - 2(b-a) \left(-\frac{1}{2}\right)^{n-1} + \frac{2(b-a)}{3} =$$

$$- 2(b-a) \left(-\frac{1}{2}\right)^{n-1} + \frac{2b-2a+3a}{3} = 4(b-a) \left(-\frac{1}{2}\right)^n + \frac{a+2b}{3}.$$

Итак, формула общего члена заданной рекуррентно последовательно-

сти имеет вид
$$x_n = \frac{a+2b}{3} + \frac{4(b-a)}{3} \cdot \left(-\frac{1}{2}\right)^n.$$

Ответ:
$$\frac{a+2b}{3} + \frac{4(b-a)}{3} \cdot \left(-\frac{1}{2}\right)^n. \blacklozenge$$

Пример 4. Последовательность $\{x_n\}$ задана рекуррентно:

$x_1 = a, x_2 = b, x_{n+1} = 2x_n - x_{n-1}, n \geq 2$. Найдите формулу общего члена последовательности.

◆ Найдём формулу общего члена по члена по общим правилам для линейных однородных рекуррентных соотношений: будем искать x_n в виде $x_n = q^n$. Подставляем x_n в заданное соотношение:

$$q^{n+1} = 2q^n - q^{n-1} \Leftrightarrow q^2 - 2q + 1 = 0 \Leftrightarrow q = 1. \text{ Отсюда следует, что}$$

$$a_n = 1^n (A + Bn). \text{ Найдём } A, B, \text{ исходя из заданных } x_1, x_2:$$

$$\begin{cases} a_1 = (A + B), \\ a_2 = A + 2B \end{cases} \Leftrightarrow \begin{cases} a = (A + B), \\ b = A + 2B \end{cases} \Leftrightarrow \begin{cases} B = b - a, \\ A = 2a - b. \end{cases}$$

$$\text{Тогда } a_n = (2a - b + (b - a)n) \equiv (a + a - b + (b - a)n) \equiv$$

$$\equiv a + (b - a)(n - 1), \text{ т. е. } a_n = a + (b - a)(n - 1).$$

Но ведь это арифметическая прогрессия! Действительно,

$$x_{n+1} = 2x_n - x_{n-1} \Leftrightarrow x_n = \frac{x_{n-1} + x_{n+1}}{2}.$$

Ответ: $a + (b - a)(n - 1). \blacklozenge$

Рекуррентное соотношение может не задавать последовательности.

Например, если $x_1 = \frac{2}{3}, x_{n+1} = \frac{1 - x_n}{x_n}, n = 1, 2, 3, \dots$, то $x_2 = \frac{1}{2}, x_3 = 1,$

$x_4 = 0$, и все члены, начиная с пятого, не определены.

§6. Понятие о пределе последовательности

В курсе алгебры и начал анализа 10 – 11 классов важную роль играет понятие производной. Производная определяется при помощи понятия предела функции, которое в обязательной школьной программе фактически отсутствует (не определяется аккуратно). Мы приведем схему построения теории пределов последовательностей и функций (без доказательств).

При рассмотрении последовательности любой ее элемент с конкретным номером можно нанести на числовую ось, но невозможно в общем случае нанести на числовую ось *все* элементы последовательности. Однако возникает вопрос – нельзя ли что – нибудь определенное сказать, где расположены *все* элементы последовательности. Например, у последовательности $x_n = (-1)^n$ элементы с четными номерами расположены в точке $x = 1$, а элементы с нечетными номерами расположены в точке $x = -1$; у последовательности $a_n = (-1)^n n$ элементы «разбегаются» сколь угодно далеко по оси вправо и влево; элементы последовательности $b_n = n$ «бегут» только вправо; про то, где расположены *все*

элементы последовательности $c_{n+1} = \frac{1}{2} \left(c_n + \frac{2}{c_n} \right)$ сразу ничего сказать нельзя. Чтобы ответить на вопрос, где расположены *все* элементы последовательности, вводится понятие *предела* последовательности.

Интервал $(a - \varepsilon; a + \varepsilon)$, где $\varepsilon > 0$, называется ε -окрестностью точки a .

Символ ∞ , конечно, не точка и не число. Но в последнее время все чаще встречаются понятия окрестности ∞ , окрестности $(+\infty)$, окрестности $(-\infty)$. Под ε -окрестностью $(+\infty)$ понимается интервал $(\varepsilon; +\infty)$, под ε -окрестностью $(-\infty)$ понимается интервал $(-\infty; \varepsilon)$, а под ε -окрестностью ∞ понимается объединение интервалов $(-\infty; \varepsilon)$ и $(\varepsilon; +\infty)$.

Предел числовой последовательности можно определить следующим образом.

Число a называется *пределом* последовательности $\{x_n\}$, если в любой ε -окрестности точки a лежат все члены последовательности с номерами, начиная с некоторого числа, которое обычно обозначается как $N+1$. Это означает, что в любой ε -окрестности точки a лежат *все* чле-

ны последовательности $\{x_n\}$, за исключением, быть может, *конечного* их числа (вне ε -окрестности могут находиться члены с номерами $1, 2, \dots, N$ или некоторые из них).

Иначе говоря, число a является пределом последовательности x_n , если вне любой окрестности точки a находится не более конечного числа членов x_n . Отсюда следует, что изменение конечного числа членов последовательности не влияет ни на факт существования предела, ни на величину последнего. При этом несущественно также, определены ли члены последовательности при всех $n \geq 1$ или же начиная с некоторого номера n_0 .

Тот факт, что последовательность $\{x_n\}$ имеет предел a , записывается символически так: $\lim_{n \rightarrow \infty} x_n = a$ или $x_n \rightarrow a$ при $n \rightarrow \infty$.

Последовательность, имеющая конечный предел (*число a*), называется *сходящейся*; последовательность, не имеющая *конечного* предела, называется *расходящейся*.

Теорема (о единственности предела).

Если последовательность имеет предел, то он только один.

◆ Допустим, что пределов два: a и b , $b > a$. Рассмотрим ε -окрестности этих точек, где $\varepsilon = (b-a)/3$. Эти окрестности не пересекаются, и, по условию, в каждой находятся *все* члены последовательности x_n , за исключением, быть может, *конечного* их числа, что невозможно. ◆

Последовательность, предел которой равен нулю, называется *бесконечно малой*. Последовательность x_n называется *бесконечно большой*,

если последовательность $y_n = \frac{1}{x_n}$ является бесконечно малой. Для бесконечно больших последовательностей применяется запись $\lim_{n \rightarrow \infty} x_n = \infty$. Одновременно это означает, что в любой ε -окрестности ∞ лежат *все* члены последовательности $\{x_n\}$, за исключением *конечного* их числа.

Говорят, что $\lim_{n \rightarrow \infty} x_n = +\infty$, если в любой ε -окрестности $(+\infty)$ лежат *все* члены последовательности $\{x_n\}$, за исключением *конечного* их числа.

Говорят, что $\lim_{n \rightarrow \infty} x_n = -\infty$, если в любой ε -окрестности $(-\infty)$ лежат все члены последовательности $\{x_n\}$, за исключением *конечного* их числа.

При любых $\alpha > 0$ и любых $q > 1$ $\lim_{n \rightarrow \infty} n^\alpha = +\infty$; $\lim_{n \rightarrow \infty} q^n = +\infty$. Если же $q < -1$, то последовательность q^n бесконечно большая, но знак ее все время меняется, поэтому неверно ни то, что $\lim_{n \rightarrow \infty} q^n = +\infty$, ни то, что $\lim_{n \rightarrow \infty} q^n = -\infty$, в этом случае $\lim_{n \rightarrow \infty} q^n = \infty$.

Пример 1. Доказать, что $\lim_{n \rightarrow \infty} \frac{1}{n} = 0$.

Доказательство. Точка $x_n = \frac{1}{n}$ принадлежит ε -окрестности точки $a = 0$ в том и только в том случае, когда $-\varepsilon < \frac{1}{n} < \varepsilon \Leftrightarrow \frac{1}{n} < \varepsilon \Leftrightarrow n > \frac{1}{\varepsilon}$, т. е. при $n > \frac{1}{\varepsilon}$ (следовательно, для всех n , кроме конечного числа значений).

Это и означает, что $\lim_{n \rightarrow \infty} \frac{1}{n} = 0$.

При вычислении пределов на практике редко пользуются определением предела. Обычно применяют некоторые стандартные (доказанные в теоретических курсах) предельные равенства, например:

$$\lim_{n \rightarrow \infty} \frac{1}{n^a} = 0, \text{ если } a > 0; \lim_{n \rightarrow \infty} q^n = 0, \text{ если } |q| < 1 \quad (1)$$

и т. д., а также различные теоремы о пределах.

Сформулируем теоремы об арифметических операциях с пределами.

Если последовательности $\{x_n\}$, и $\{y_n\}$ *сходятся*, то сходятся и последовательности $\{x_n + y_n\}$, $\{x_n y_n\}$, $\left\{ \frac{x_n}{y_n} \right\}$ (в последнем случае надо требовать, чтобы $y_n \neq 0$ и $\lim_{n \rightarrow \infty} y_n \neq 0$). При этом

$$\lim_{n \rightarrow \infty} (x_n + y_n) = \lim_{n \rightarrow \infty} x_n + \lim_{n \rightarrow \infty} y_n;$$

$$\lim_{n \rightarrow \infty} (x_n y_n) = \lim_{n \rightarrow \infty} x_n \lim_{n \rightarrow \infty} y_n; \lim_{n \rightarrow \infty} \frac{x_n}{y_n} = \frac{\lim_{n \rightarrow \infty} x_n}{\lim_{n \rightarrow \infty} y_n}.$$

Пример 2. Найти $\lim_{n \rightarrow \infty} \frac{2n^2 - 3n + 2}{n^2 + 2}$.

Решение. В этом примере теорема о пределе частного неприменима, т. к. пределы числителя и знаменателя не существуют: и числитель и знаменатель стремятся к ∞ при $n \rightarrow \infty$. В таком случае сначала надо вынести x в старшей степени в числителе и знаменателе, сократить общую степень, а затем попробовать применить теоремы:

$$\lim_{n \rightarrow \infty} \frac{2n^2 - 3n + 2}{n^2 + 2} = \lim_{n \rightarrow \infty} \frac{n^2 \left(2 - \frac{3}{n} + \frac{2}{n^2} \right)}{n^2 \left(1 + \frac{2}{n^2} \right)} = \frac{2 - 3 \lim_{n \rightarrow \infty} \frac{1}{n} + 2 \lim_{n \rightarrow \infty} \frac{1}{n^2}}{1 + 2 \lim_{n \rightarrow \infty} \frac{1}{n^2}} = \frac{2 - 3 \cdot 0 + 2 \cdot 0}{1 + 2 \cdot 0} = 2.$$

Геометрическая прогрессия $\{x_n\}$ называется *бесконечно убывающей*, если $|q| < 1$ (q – знаменатель прогрессии). Суммой бесконечно убывающей геометрической прогрессии называется $\lim_{n \rightarrow \infty} S_n$, где S_n –

сумма ее первых n членов. Известно, что $S_n = x_1 \frac{q^n - 1}{q - 1} = \frac{x_1}{q - 1} q^n + \frac{x_1}{1 - q}$; поэтому сумма бесконечно убывающей геометрической прогрессии равна

$$S = \lim_{n \rightarrow \infty} S_n = \frac{x_1}{q - 1} \lim_{n \rightarrow \infty} q^n + \frac{x_1}{1 - q} = \frac{x_1}{q - 1} \cdot 0 + \frac{x_1}{1 - q} = \frac{x_1}{1 - q}.$$

Пример 3. Последовательность x_n задана рекуррентно: $x_1 = a$;

$x_2 = b$; $x_n = \frac{1}{2}(x_{n-1} + x_{n-2})$, $n = 3, 4, \dots$. Доказать, что последовательность сходится и найти ее предел.

Решение. Из примера 2 следует, что $x_n = \frac{a + 2b}{3} + \frac{4(b - a)}{2} \left(-\frac{1}{2} \right)^n$, а

$$\lim_{n \rightarrow \infty} \left(-\frac{1}{2} \right)^n = 0, \text{ поэтому } \lim_{n \rightarrow \infty} x_n = \frac{a + 2b}{3}.$$

§7. Понятие о пределе функции

Одним из стандартных определений предела функции, принятых в математическом анализе, является следующее (так называемое, определение по Гейне).

Число b называется *пределом функции* $f(x)$ в точке a , если для любой последовательности $\{x_n\}$ такой, что $x_n \neq a$ и $\lim_{n \rightarrow \infty} x_n = a$, выполняется равенство $\lim_{n \rightarrow \infty} f(x_n) = b$.

Это определение символически выражается записью $\lim_{x \rightarrow a} f(x) = b$ или $f(x) \rightarrow b$ при $x \rightarrow a$. В определении предела рассматриваются значения x_n , не равные a , поэтому в самой точке a функция $f(x)$ может не быть определена; если значение $f(a)$ определено, то оно не обязано совпадать с b .

Пример 1. Доказать, что $\lim_{x \rightarrow 1} \frac{x^2 - 1}{x - 1} = 2$.

Доказательство. Функция $f(x) = \frac{x^2 - 1}{x - 1}$ не определена при $x = 1$, но при $x_n \neq 1$ имеет место равенство $f(x_n) = x_n + 1$. Значит, если $x_n \neq 1$ и $\lim_{n \rightarrow \infty} x_n = 1$, то $\lim_{n \rightarrow \infty} f(x_n) = 2$.

По определению предела функции, $\lim_{x \rightarrow 1} f(x) = 2$.

Число b называется *пределом функции* $f(x)$ в точке a справа (обозначается $\lim_{x \rightarrow a+0} f(x) = b$), если для любой последовательности x_n такой, что $x_n > a$ и $\lim_{n \rightarrow \infty} x_n = a$, выполняется равенство $\lim_{n \rightarrow \infty} f(x_n) = b$.

Число b называется *пределом функции* $f(x)$ в точке a слева (обозначается $\lim_{x \rightarrow a-0} f(x) = b$), если для любой последовательности x_n такой, что $x_n < a$ и $\lim_{n \rightarrow \infty} x_n = a$, выполняется равенство $\lim_{n \rightarrow \infty} f(x_n) = b$.

Пример 2. Найти пределы справа и слева в точке 0 функции

$$\operatorname{sign} x = \begin{cases} 1, & \text{если } x > 0; \\ 0, & \text{если } x = 0; \\ -1, & \text{если } x < 0. \end{cases}$$

Решение. Для любой последовательности $\{x_n\}$ такой, что $x_n > 0$ и $\lim_{n \rightarrow \infty} x_n = 0$, выполняется равенство $\operatorname{sign} x_n = 1$, поэтому $\lim_{x \rightarrow 0+0} \operatorname{sign} x = 1$. Для любой последовательности $\{x_n\}$ такой, что $x_n < 0$ и $\lim_{n \rightarrow \infty} x_n = 0$, выполняется равенство $\operatorname{sign} x_n = -1$, поэтому $\lim_{x \rightarrow 0-0} \operatorname{sign} x = -1$.

При рассмотрении многих вопросов (например, при построении графиков) возникает понятие предела функции при $x \rightarrow \infty$ (применяется запись $\lim_{x \rightarrow \infty} f(x) = b$). Говорят, что $\lim_{x \rightarrow \infty} f(x) = b$, если для любой последовательности $\{x_n\}$ такой, что $\lim_{n \rightarrow \infty} x_n = \infty$, выполняется равенство $\lim_{n \rightarrow \infty} f(x_n) = b$.

Аналогично определяются записи $\lim_{x \rightarrow +\infty} f(x) = b$ и $\lim_{x \rightarrow -\infty} f(x) = b$. Можно определить также понятие бесконечно большого предела функции. Например, говорят, что $\lim_{x \rightarrow a} f(x) = +\infty$, если для любой последовательности $\{x_n\}$ такой, что $x_n \neq a$ и $\lim_{n \rightarrow \infty} x_n = a$, выполняется равенство $\lim_{n \rightarrow \infty} f(x_n) = +\infty$. Говорят, что $\lim_{x \rightarrow -\infty} f(x) = \infty$, если для любой последовательности $\{x_n\}$ такой, что $\lim_{n \rightarrow \infty} x_n = -\infty$, выполняется равенство $\lim_{n \rightarrow \infty} f(x_n) = \infty$.

Аналогично можно определить, что значит $\lim_{x \rightarrow a} f(x) = -\infty$, $\lim_{x \rightarrow \infty} f(x) = +\infty$, $\lim_{x \rightarrow a+0} f(x) = +\infty$, $\lim_{x \rightarrow a-0} f(x) = \infty$ и т. д.

Можно доказать, что $\lim_{x \rightarrow +\infty} \operatorname{sign} x = 1$, $\lim_{x \rightarrow -\infty} \operatorname{sign} x = -1$, $\lim_{x \rightarrow \infty} \operatorname{sign} x$ не существует.

§8. Непрерывность функции

Если функция $f(x)$ определена в точке a и $\lim_{x \rightarrow a} f(x) = f(a)$, то функция $f(x)$ называется *непрерывной* в точке a . Иными словами, функция $f(x)$ называется непрерывной в точке a , если для любой последовательности $\{x_n\}$ такой, что $\lim_{n \rightarrow \infty} x_n = a$, выполняется равенство

$\lim_{n \rightarrow \infty} f(x_n) = f(a)$. Оговорка $x_n \neq a$ здесь не нужна, так как при $x_n = a$ соответствующие значения $f(x_n)$ равны $f(a)$.

Функция $y = |\operatorname{sign}x| = \begin{cases} 1, & \text{если } x \neq 0; \\ 0, & \text{если } x = 0, \end{cases}$

график которой изображен на рис. 1, не является непрерывной в точке 0. В самом деле, $\lim_{x \rightarrow 0} f(x) = 1$, а $f(0) = 0$.

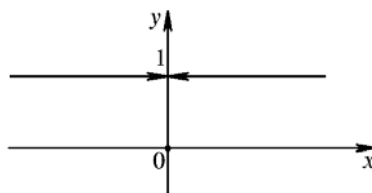


Рис. 1

Функция $f(x)$ называется *непрерывной на интервале* (конечном или бесконечном), если она непрерывна в каждой точке этого интервала. Элементарные функции, изучаемые в школьном курсе, непрерывны на любом интервале, на котором они определены. Например, функция x^3 непрерывна на $(-\infty; +\infty)$; функция \sqrt{x} непрерывна на $(0; +\infty)$; функция $\operatorname{ctg}x$ непрерывна на $(0; \pi)$.

Для вычисления пределов функций часто бывает полезна следующая теорема. Пусть существует $\lim_{x \rightarrow a} f(x)$ и $\lim_{x \rightarrow a} g(x)$. Тогда существуют

$$\lim_{x \rightarrow a} (f(x) + g(x)) = \lim_{x \rightarrow a} f(x) + \lim_{x \rightarrow a} g(x);$$

$$\lim_{x \rightarrow a} (f(x)g(x)) = \lim_{x \rightarrow a} f(x) \lim_{x \rightarrow a} g(x); \quad \lim_{x \rightarrow a} \frac{f(x)}{g(x)} = \frac{\lim_{x \rightarrow a} f(x)}{\lim_{x \rightarrow a} g(x)}$$

(в последнем случае нужно требовать, чтобы $g(x) \neq 0$ при $x \neq a$ и чтобы $\lim_{x \rightarrow a} g(x) \neq 0$).

Отсюда следует, что любой многочлен $P(x) = a_0 + a_1x + \dots + a_nx^n$ непрерывен в любой точке, а любая рациональная функция (отношение двух многочленов) непрерывна в любой точке, где знаменатель не обращается в ноль.

Пример 3. $\lim_{x \rightarrow 2} (x^2 - 3x + 2) = 2^2 - 3 \cdot 2 + 2 = 0.$

Пример 4. $\lim_{x \rightarrow 1} \frac{5x^3 - 8x + 1}{3x - 5} = \frac{5 \cdot 1^3 - 8 \cdot 1 + 1}{3 \cdot 1 - 5} = 1.$

Пример 5. $\lim_{x \rightarrow 1} \frac{x^2 - 1}{x - 1} = \lim_{x \rightarrow 1} (x + 1) = 1 + 1 = 2.$

В примерах 3 и 4 мы воспользовались непрерывностью данных функций в заданных точках. В примере 5 непосредственной подстановкой $x = 1$ предел вычислить не удастся, т. к. и числитель, и знаменатель дроби в точке $x = 1$ обращаются в ноль. Как говорят, имеет место неопределенность $0 : 0$. Для раскрытия этой неопределенности мы заметим, что $\frac{x^2 - 1}{x - 1} = x + 1$ при $x \neq 1$, поэтому при исследовании преде-

ла при $x \rightarrow 1$ функцию $\frac{x^2 - 1}{x - 1}$ можно заменить на функцию $x + 1$, которая непрерывна в точке $x = 1$ (см. также пример 1).

$$\begin{aligned} \text{Пример 6. } \lim_{x \rightarrow 6} \frac{\sqrt{x-2} - 2}{x-6} &= \lim_{x \rightarrow 6} \frac{(\sqrt{x-2} - 2)(\sqrt{x-2} + 2)}{(x-6)(\sqrt{x-2} + 2)} = \\ &= \lim_{x \rightarrow 6} \frac{x-6}{(x-6)(\sqrt{x-2} + 2)} = \lim_{x \rightarrow 6} \frac{1}{\sqrt{x-2} + 2} = \frac{1}{\sqrt{6-2} + 2} = \frac{1}{4}. \end{aligned}$$

В последнем примере непосредственной подстановкой $x = 6$ предел вычислить не удастся (неопределенность $0 : 0$). Приходится прибегнуть к искусственному приему – умножению числителя и знаменателя дроби на «сопряженное выражение» $\sqrt{x-2} + 2$. В итоге оказывается, что при $x \neq 6$ данная дробь равна $\frac{1}{\sqrt{x-2} + 2}$, а последняя функция уже непрерывна в точке $x = 6$.

Соображения, связанные с непрерывностью функций, часто применяются при вычислении пределов последовательностей.

$$\lim_{n \rightarrow \infty} x_n = \lim_{n \rightarrow \infty} \sqrt[n]{3^n + 5^n} = \lim_{n \rightarrow \infty} \left(5 \cdot \sqrt[n]{1 + \left(\frac{3}{5}\right)^n} \right) = 5.$$

Пример 7.

$$\begin{aligned} \lim_{n \rightarrow \infty} (\sqrt{n+1} - \sqrt{n-1}) &= \lim_{n \rightarrow \infty} \frac{(\sqrt{n+1} - \sqrt{n-1})(\sqrt{n+1} + \sqrt{n-1})}{\sqrt{n+1} + \sqrt{n-1}} = \\ &= \lim_{n \rightarrow \infty} \frac{2}{\sqrt{n+1} + \sqrt{n-1}} = \lim_{n \rightarrow \infty} \frac{2}{\sqrt{n} \left(\sqrt{1 + \frac{1}{n}} + \sqrt{1 - \frac{1}{n}} \right)} = \end{aligned}$$

$$= \frac{2 \lim_{n \rightarrow \infty} \frac{1}{\sqrt{n}}}{\lim_{n \rightarrow \infty} \sqrt{1 + \frac{1}{n}} + \lim_{n \rightarrow \infty} \sqrt{1 - \frac{1}{n}}} = \frac{2 \cdot 0}{\sqrt{1} + \sqrt{1}} = 0.$$

Пример 8.

$$\lim_{n \rightarrow \infty} \frac{2n-3}{3n + \sqrt[3]{8n^3-1}} = \lim_{n \rightarrow \infty} \frac{2 - \frac{3}{n}}{3 + \sqrt[3]{8 - \frac{1}{n^3}}} = \frac{2 - 3 \lim_{n \rightarrow \infty} \frac{1}{n}}{3 + \lim_{n \rightarrow \infty} \sqrt[3]{8 - \frac{1}{n^3}}} = \frac{2 - 3 \cdot 0}{3 + \sqrt[3]{8}} = \frac{2}{5}.$$

Теорема о пределах суммы, произведения и частного двух функций остается справедливой, если в ней всюду заменить $x \rightarrow a$ на $x \rightarrow a + 0$, $x \rightarrow a - 0$, $x \rightarrow \infty$, $x \rightarrow +\infty$, $x \rightarrow -\infty$.

Можно доказать, что если $f(x) \neq 0$ в некоторой окрестности точки a (кроме, быть может, самой точки a) и $\lim_{x \rightarrow a} f(x) = 0$, то $\lim_{x \rightarrow a} \frac{1}{f(x)} = \infty$.

Обратно, если $\lim_{x \rightarrow a} f(x) = \infty$, то $\lim_{x \rightarrow a} \frac{1}{f(x)} = 0$. Утверждения эти сохраняются, если заменить a на $a + 0$, $a - 0$, ∞ , $+\infty$, $-\infty$.

Пример 9.
$$\lim_{x \rightarrow \infty} \frac{x^3 - 2x^2}{2x^3 + x + 1} = \lim_{x \rightarrow \infty} \frac{1 - \frac{2}{x}}{2 + \frac{1}{x^2} + \frac{1}{x^3}} = \frac{1 - 2 \cdot 0}{2 + 0 + 0} = \frac{1}{2}.$$

§9. Асимптоты

На рис. изображен график функции $f(x) = \frac{1}{x}$. Как мы уже отмечали, $\lim_{x \rightarrow 0+0} f(x) = +\infty$; $\lim_{x \rightarrow 0-0} f(x) = -\infty$; $\lim_{x \rightarrow \infty} f(x) = 0$. Геометрически это соответствует тому, что при $x \rightarrow 0$ график неограниченно приближается к оси y (прямой $x = 0$); при $x \rightarrow \infty$ график неограниченно при-

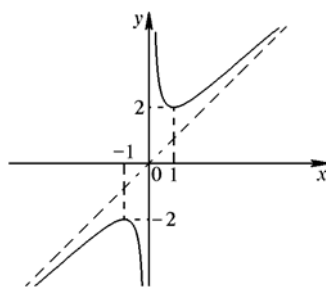


Рис. 2

ближается к оси x (прямой $y = 0$). В этом случае говорят, что график имеет вертикальную асимптоту $x = 0$ и горизонтальную асимптоту $y = 0$.

Бывают еще и наклонные асимптоты. Многим знаком график функции

$y = x + \frac{1}{x}$ (рис. 2). Так как $\lim_{x \rightarrow 0} f(x) = \infty$, то график имеет вертикальную асимптоту $x = 0$.

При $x \rightarrow \infty$ горизонтальной асимптоты нет: $\lim_{x \rightarrow \infty} f(x) = \infty$, и график неограниченно приближается к прямой

$y = x$ ($\lim_{x \rightarrow \infty} (f(x) - x) = \lim_{x \rightarrow \infty} \frac{1}{x} = 0$). Прямая $y = x$ является наклонной

асимптотой графика $y = x + \frac{1}{x}$. Дадим теперь определения

всех типов асимптот.

I. Прямая $x = a$ называется *вертикальной асимптотой* графика $y = f(x)$, если $\lim_{x \rightarrow a+0} f(x) = \infty$ или $\lim_{x \rightarrow a-0} f(x) = \infty$. Так, для функций

$f(x) = \frac{1}{x}$ и $f(x) = x + \frac{1}{x}$ (рис. 2) $\lim_{x \rightarrow 0+0} f(x) = \infty$ и $\lim_{x \rightarrow 0-0} f(x) = \infty$;

каждый из этих графиков имеет вертикальную асимптоту $x = 0$. А вот график $y = 2^{1/x}$ (рис. 3) имеет одностороннюю вертикальную асимптоту $x = 0$ ($\lim_{x \rightarrow 0+0} f(x) = \infty$, $\lim_{x \rightarrow 0-0} f(x) = 0$).

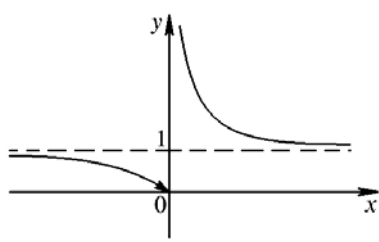


Рис. 3

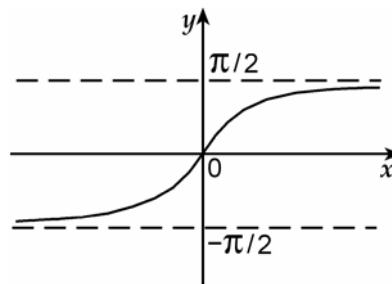


Рис. 4

II. Прямая $y = b$ называется *горизонтальной асимптотой* графика $y = f(x)$, если $\lim_{x \rightarrow +\infty} f(x) = b$ или $\lim_{x \rightarrow -\infty} f(x) = b$. Так, для функции

$f(x) = \frac{1}{x}$ $\lim_{x \rightarrow \infty} f(x) = 0$ (асимптота $y = 0$). Для графика на рис. 3

горизонтальной асимптотой является прямая $y = 1$. А вот график $y = \operatorname{arctg} x$ (рис. 4) имеет горизонтальную асимптоту $y = \frac{\pi}{2}$ при $x \rightarrow +\infty$ и горизонтальную асимптоту $y = -\frac{\pi}{2}$ при $x \rightarrow -\infty$.

III. Прямая $y = kx + b$ называется *наклонной асимптотой* графика $y = f(x)$, если $\lim_{x \rightarrow +\infty} (f(x) - kx - b) = 0$ или $\lim_{x \rightarrow -\infty} (f(x) - kx - b) = 0$. Горизонтальные асимптоты являются частным случаем наклонных (при $k = 0$). График $y = x + \frac{1}{x}$ (рис. 2) имеет двустороннюю наклонную асимптоту $y = x$ ($\lim_{x \rightarrow \infty} (f(x) - x) = 0$).

График $y = x + \operatorname{arctg} x$ имеет односторонние наклонные асимптоты:

$$y = x + \frac{\pi}{2}$$

при $x \rightarrow +\infty$ и $y = x - \frac{\pi}{2}$ при $x \rightarrow -\infty$ (рис. 5).

Наклонные асимптоты при $k \neq 0$ могут иметь место лишь в том случае, когда $\lim_{x \rightarrow +\infty} f(x) = \infty$ или $\lim_{x \rightarrow -\infty} f(x) = \infty$.

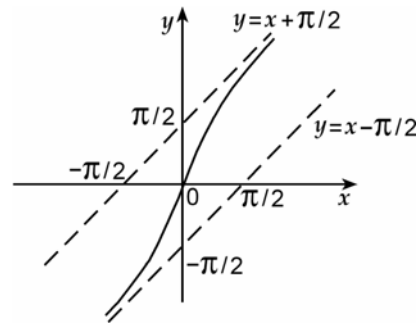


Рис. 5

Пусть прямая $y = kx + b$ — двусторонняя наклонная асимптота графика $y = f(x)$. Заметим, что

$$\frac{f(x)}{x} = \frac{f(x) - kx - b}{x} + k + \frac{b}{x}.$$

Так как $\lim_{x \rightarrow \infty} (f(x) - kx - b) = 0$ и $\lim_{x \rightarrow \infty} \frac{1}{x} = 0$, то $\lim_{x \rightarrow \infty} \frac{f(x)}{x} = k$. Ясно, что $\lim_{x \rightarrow \infty} (f(x) - kx) = b$. Итак,

$$k = \lim_{x \rightarrow \infty} \frac{f(x)}{x}; \quad b = \lim_{x \rightarrow \infty} (f(x) - kx). \quad (2)$$

Обратно, если существуют числа k и b , удовлетворяющие условию (2), то $\lim_{x \rightarrow \infty} (f(x) - kx - b) = 0$, т. е. $y = kx + b$ – наклонная асимптота. В случае односторонних наклонных асимптот k и b ищутся по формулам (2), где ∞ заменяется на $+\infty$ или $-\infty$.

Отметим, что существование конечного предела $k = \lim_{x \rightarrow \infty} \frac{f(x)}{x}$ еще не означает наличия асимптоты. Так, для функции

$$y = \sqrt{x} : k = \lim_{x \rightarrow +\infty} \frac{\sqrt{x}}{x} = \lim_{x \rightarrow +\infty} \frac{1}{\sqrt{x}} = 0; \quad b = \lim_{x \rightarrow +\infty} \sqrt{x} = +\infty.$$

Поэтому график не имеет асимптоты при $x \rightarrow +\infty$.

Пример 10. Найти асимптоты графика $y = \frac{(x-1)^3}{(x-2)^2}$.

Решение. Ясно, что $\lim_{x \rightarrow 2} f(x) = \infty$,

поэтому график имеет вертикальную асимптоту $x = 2$. Далее, $\lim_{x \rightarrow \infty} f(x) = \infty$. Поэтому ищем

$$k = \lim_{x \rightarrow \infty} \frac{f(x)}{x} = \lim_{x \rightarrow \infty} \frac{(x-1)^3}{x(x-2)^2} = \lim_{x \rightarrow \infty} \frac{x^3 - 3x^2 + 3x - 1}{x^3 - 4x^2 + 4x} = 1;$$

$$b = \lim_{x \rightarrow \infty} (f(x) - x) = \lim_{x \rightarrow \infty} \left(\frac{(x-1)^3}{(x-2)^2} - x \right) = \lim_{x \rightarrow \infty} \frac{x^2 - x - 1}{x^2 - 4x + 4} = 1.$$

График имеет двустороннюю наклонную асимптоту $y = x + 1$.

Пример 11. Найти асимптоты графика $y = x + \sqrt{x^2 - 2x}$.

Решение. Функция определена при $x^2 - 2x \geq 0$, т. е. при $x \in (-\infty; 0] \cup [2; +\infty)$. Так как в любой точке области определения функция имеет конечный предел, то вертикальных асимптот график не имеет. Исследуем наличие асимптот при $x \rightarrow \infty$ (горизонтальных или наклонных).

Так как $f(x) \geq x$ при $x \geq 2$, то $\lim_{x \rightarrow +\infty} f(x) = +\infty$. Поэтому ищем

$$k = \lim_{x \rightarrow +\infty} \frac{f(x)}{x} = \lim_{x \rightarrow +\infty} \left(1 + \frac{\sqrt{x^2 - 2x}}{x} \right) = \lim_{x \rightarrow +\infty} \left(1 + \sqrt{1 - \frac{2}{x}} \right) = 2$$

(здесь использовано то, что $x = \sqrt{x^2}$ при $x \geq 0$). Далее,

$$b = \lim_{x \rightarrow +\infty} (f(x) - 2x) = \lim_{x \rightarrow +\infty} (\sqrt{x^2 - 2x} - x) = \lim_{x \rightarrow +\infty} \frac{(\sqrt{x^2 - 2x} - x)(\sqrt{x^2 - 2x} + x)}{\sqrt{x^2 - 2x} + x} =$$

$$= \lim_{x \rightarrow +\infty} \frac{-2x}{\sqrt{x^2 - 2x} + x} = \lim_{x \rightarrow +\infty} \frac{-2}{\sqrt{1 - \frac{2}{x}} + 1} = \frac{-2}{\sqrt{1 + 1}} = -1.$$

График имеет наклонную асимптоту $y = 2x - 1$ при $x \rightarrow +\infty$. Обратим внимание на то, что при вычислении $\lim_{x \rightarrow +\infty} (\sqrt{x^2 - 2x} - x)$ мы столкнулись с разностью двух функций, каждая из которых имеет предел $+\infty$. Как говорят, имеет место неопределенность $\infty - \infty$. Непосредственно такой предел вычислить нельзя. Снова приходится прибегнуть к умножению и делению на «сопряженное» выражение (см. также примеры 6 и 7 из §8).

Что касается $\lim_{x \rightarrow -\infty} f(x)$, то это предел суммы двух функций, одна из которых имеет предел $-\infty$, а другая – предел $+\infty$. Опять-таки нужно применить аналогичное преобразование:

$$\lim_{x \rightarrow -\infty} (x + \sqrt{x^2 - 2x}) = \lim_{x \rightarrow -\infty} \frac{(x + \sqrt{x^2 - 2x})(x - \sqrt{x^2 - 2x})}{x - \sqrt{x^2 - 2x}} =$$

$$= \lim_{x \rightarrow -\infty} \frac{2x}{x - \sqrt{x^2 - 2x}} = \lim_{x \rightarrow -\infty} \frac{2}{1 + \frac{\sqrt{x^2 - 2x}}{x}} = \lim_{x \rightarrow -\infty} \frac{2}{1 + \sqrt{1 - \frac{2}{x}}} = \frac{2}{1 + \sqrt{1}} = 1$$

(здесь мы воспользовались тем, что $x = -\sqrt{x^2}$ при $x < 0$). График имеет горизонтальную асимптоту $y = 1$ при $x \rightarrow -\infty$.

§ 10. Построение эскизов графиков функций

Пример 12. Построить график функции $y = \frac{3x+1}{5x-7}$. График дробно -

линейной функции всегда гипербола. Чтобы узнать, как она расположена в плоскости, надо выделить целую часть, а потом обычную гиперболу передвинуть вверх или вниз, вправо или влево. Для эскиза неважно, сжата она или нет. Но, если вы хотите построить ее поточнее,

можно найти значение в нескольких «хороших» точках. Посмотрите, как можно выделить целую часть :

$$y = \frac{3x+1}{5x-7} = \frac{3\left(x+\frac{1}{3}\right)}{5\left(x-\frac{7}{5}\right)} = \frac{3\left(x-\frac{7}{5}+\frac{7}{5}+\frac{1}{3}\right)}{5\left(x-\frac{7}{5}\right)} = \frac{3\left(x-\frac{7}{5}\right)+\frac{21}{5}+1}{5\left(x-\frac{7}{5}\right)} = \frac{3}{5} + \frac{26}{25\left(x-\frac{7}{5}\right)}.$$

Видно, что вертикальная асимптота $x = \frac{7}{5}$, горизонтальная - $y = \frac{3}{5}$.

Пример 2. Построить график функции $y = x^3 - 3x$.

Функция $y = x^3 - 3x = x(x^2 - 3)$ нечетна и обращается в ноль в

точках $x = 0$, $x = \sqrt{3}$ и $x = -\sqrt{3}$. Если пере-

пишем функцию в виде $y = x^3 - 3x = x^3\left(1 - \frac{3}{x^2}\right)$, то увидим, что

$$\lim_{x \rightarrow -\infty} y = \lim_{x \rightarrow -\infty} x^3\left(1 - \frac{3}{x^2}\right) =$$

$$= -\infty; \lim_{x \rightarrow +\infty} y = \lim_{x \rightarrow +\infty} x^3\left(1 - \frac{3}{x^2}\right) = +\infty$$

и при $x \rightarrow \infty$ она ведет себя как $y = x^3$,

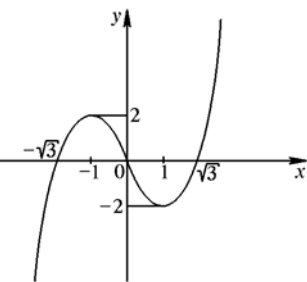


Рис. 6

т. к. $y = x^3 - 3x = x^3\left(1 - \frac{3}{x^2}\right) \approx x^3$. Теперь можно нарисовать эскиз графика этой функции (рис. 6).

Пример 3. Построить график функции $y = \frac{(x-1)^3}{(x-2)^2}$.

Решение. В данном примере график построится проще, если мы сделаем замену переменных: $x - 2 = t \Leftrightarrow x = t + 2$, тогда

$$y = \frac{(x-1)^3}{(x-2)^2} = \frac{(t+1)^3}{t^2}.$$

Функция $y = \frac{(t+1)^3}{t^2}$ определена при $t \neq 0$, обращается в нуль при $t = -1$. Применяя метод интервалов, легко заметить, что $f(t) > 0$ при $t \in (-1; 0) \cup (0; +\infty)$ и $f(t) < 0$ при $t \in (-\infty; -1)$.

Ясно, что $\lim_{t \rightarrow 0} f(t) = \infty$, поэтому график имеет вертикальную асимптоту $t = 0$, но для построения графика этого мало: необходимо знать, в какую «бесконечность» уходит график. Поэтому уточним, что $\lim_{t \rightarrow 0} f(t) = +\infty$ - значит, график «уходит» сколь угодно далеко вверх.

Далее, $\lim_{t \rightarrow \infty} f(t) = \infty$ - значит, может быть наклонная асимптота. Но здесь тоже очень важно, в какую «бесконечность» уходит график при $t \rightarrow +\infty$ и в какую при $t \rightarrow -\infty$. Поэтому эти пределы надо находить отдельно. В нашем случае (это имеет место всегда, если числитель и знаменатель – многочлены, а степень числителя на 1 больше степени знаменателя) удобно выделить целую часть дроби:

$$y = \frac{(t+1)^3}{t^2} = \frac{t^3 + 3t^2 + 3t + 1}{t^2} = t + 3 + \frac{3t+1}{t^2}.$$

Сразу видно, что $\lim_{t \rightarrow -\infty} y = t + 3 + \frac{3t+1}{t^2} = -\infty$, а

$$\lim_{t \rightarrow +\infty} y = t + 3 + \frac{3t+1}{t^2} = +\infty.$$

Замечательно, что при таком представлении функции *не надо* специально находить коэффициенты для асимптоты – асимптота сама «падает» нам в руки: это прямая $y = t + 3$, т. к. остальная часть в выражении

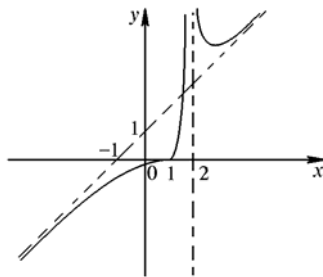


Рис. 7

для $y(t)$ стремится к 0 при $t \rightarrow \infty$, что соответствует определению наклонной асимптоты. Мало этого, из формулы следует, что $y - (t + 3) = \frac{3t+1}{t^2} < 0$ при $t \rightarrow -\infty$, т. е. график функции при $t \rightarrow -\infty$ находится *под* асимптотой, а

$$y - (t + 3) = \frac{3t+1}{t^2} > 0 \text{ при } t \rightarrow +\infty, \text{ т. е.}$$

здесь график функции при $t \rightarrow +\infty$

находится *над* асимптотой.

Теперь мы можем нарисовать эскиз графика (рис. 7).

Из эскиза ясно, что при $t > 0$, где t — это точка локального минимума, но она находится с помощью производной. Наш график — это только эскиз.

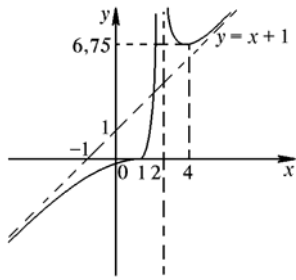


Рис. 8

рестности ∞ .

При окончательном построении графика допускаются искажения масштаба там, где это не влияет на общий вид графика и делает рисунок более компактным.

Пример 4. Построить график функции $y = x + \sqrt{x^2 - 2x}$.

Решение. Функция определена при $x \in (-\infty; 0] \cup [2; +\infty)$.

Если $x \geq 2$, то легко видеть, что $f(x) > 0$, $f(x) = 0$ при $x = 0$, а при всех $x < 0$ выполняется неравенство $f(x) > 0$. В самом деле, неравенство $x + \sqrt{x^2 - 2x} > 0$ равносильно неравенству $\sqrt{x^2 - 2x} > -x$; обе части последнего неравенства при $x < 0$ положительны, и после возведения их в квадрат получится равносильное неравенство $x^2 - 2x > x^2$, справедливое при $x < 0$.

При $x \rightarrow +\infty$ график имеет наклонную асимптоту $y = 2x - 1$, причем, график находится *под* асимптотой, т. к.

$$y - (2x - 1) = \sqrt{x^2 - 2x} - x + 1 = \frac{(\sqrt{x^2 - 2x} - x)(\sqrt{x^2 - 2x} + x)}{\sqrt{x^2 - 2x} + x} + 1 =$$

$$\frac{-2x}{\sqrt{x^2 - 2x} + x} + 1 = \frac{\sqrt{x^2 - 2x} - x}{\sqrt{x^2 - 2x} + x} = \frac{-2x}{(\sqrt{x^2 - 2x} + x)^2} < 0.$$

Для более точного построения графика можно найти значения функции еще в нескольких точках. Но при выполнении данного задания это делать не обязательно. Нас интересует общий вид графика, а не построение его с очень большой точностью. Еще раз напомним, что «интересными» точками являются точки, в которых функция не является непрерывной, точки пересечения графика с осями, поведение в окрестности ∞ .

При $x \rightarrow -\infty$ график имеет горизонтальную асимптоту $y = 1$ (пример 2 из §4), причем

$$y - 1 = x + \sqrt{x^2 - 2x} - 1 = \sqrt{x^2 - 2x} - (1 - x) = \frac{(\sqrt{x^2 - 2x} - (1 - x))(\sqrt{x^2 - 2x} + (1 - x))}{(\sqrt{x^2 - 2x} + (1 - x))} = \frac{-1}{(\sqrt{x^2 - 2x} + (1 - x))} < 0$$

при любом $x \leq 0$, т. е. опять график лежит ниже асимптоты.

В рассмотренном примере точки $x = 0$ и $x = 2$ являются граничными точками области определения. При $x \rightarrow -0$ функция ведет себя примерно так:

$$y = x + \sqrt{x(x-2)} \approx x + \sqrt{-2x} \approx \sqrt{-2x},$$

а при $x \rightarrow 2+0$ функция ведет себя примерно так:

$$y = x + \sqrt{x(x-2)} \approx 2 + \sqrt{2(x-2)}.$$

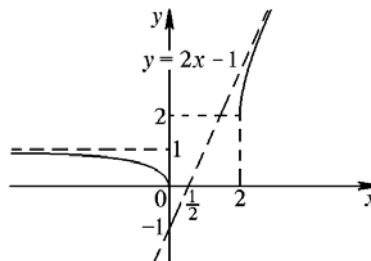


Рис. 9

Теперь можно нарисовать эскиз графика (рис. 9).

Контрольные вопросы

1(3). (МГУ, 2001, географ. ф-т). Числа p, q, r в указанном порядке образуют арифметическую прогрессию, а числа $r - p, q - r, -3p$ в указанном порядке образуют геометрическую прогрессию. Какое минимальное значение может принимать число $-p^2 + 8q^2 + 2r^2 - 8qr + 4p$?

2(3). (МГУ, 1993, мехмат) Сумма первых 7 членов геометрической прогрессии равна её первому члену, умноженному на 7, а сумма первого, восьмого и пятнадцатого равна 15. Найти сумму первых 21 членов этой прогрессии.

3(4). (МГУ, 2001, химфак). Последовательность чисел a_1, a_2, a_3, \dots устроена следующим образом: $a_1 = 1$, каждое последующее число равно утроенной сумме предыдущих чисел, т. е. $a_2 = 3a_1, a_3 = 3(a_1 + a_2)$ и т. д. Найти произведение всех чисел от a_1 до a_{2001} .

4(4). (МГУ, 2005, биофак) Задана функция f , причем

$f(x+y) = f(x) \cdot f(y)$ для всех рациональных чисел x, y . Найдите $f\left(-\frac{3}{2}\right)$, если известно, что $f(4) = 16$.

5(4). Последовательность чисел Фибоначчи задается рекуррентно: $x_1 = x_2 = 1$; $x_{n+2} = x_{n+1} + x_n$, $n = 1, 2, 3, \dots$. Найдите формулу общего члена.

6(4). Пусть последовательность для $n = 1, 2, 3, \dots$ задана рекуррентно:

$x_1 = 2, x_2 = 8, x_{n+2} = 4x_{n+1} - 3x_n$, $n = 1, 2, \dots$. Найдите формулу общего члена.

7(4). Последовательность x_n задана рекуррентно: $x_1 = a$;

$x_2 = b$; $x_n = \frac{1}{2}(x_{n-1} + x_{n-2})$, $n = 3, 4, \dots$. Найдите формулу общего члена.

8(4). Пусть последовательность для $n = 1, 2, 3, \dots$ задана рекуррентно:

$x_1 = a_1, x_2 = a_2, x_{n+2} = 3x_{n+1} - 2x_n - 1$, $n = 1, 2, \dots$. Найдите формулу общего члена.

9(4). Пусть последовательность для $n = 1, 2, 3, \dots$ задана рекуррентно: $a_{n+1} = a_n + bn$. Найдите формулу общего члена.

10(4). Пусть последовательность для $n = 1, 2, 3, \dots$ задана рекуррентно: $a_{n+1} = a_n + 8n$, $a_1 = 1$. Найдите формулу общего члена.

11(2). Постройте эскиз графика функции $y = \frac{3x-1}{4x+1}$.

12(3). Постройте эскиз графика функции $y = \frac{5-|x|}{3+2x}$.

13(3). Постройте эскиз графика функции $y = \left| \frac{11x-2}{4x-1} \right|$.

Задачи

Найти пределы последовательностей (1-4)

1(2). $\lim_{n \rightarrow \infty} \frac{3n^2 - 5n + 13}{7n^2 + 2n - 7}$.

$$2(3). \lim_{n \rightarrow \infty} \left(\frac{2n^3}{2n^2 - 1} - \frac{n^2}{n+1} \right).$$

$$3(3). \lim_{n \rightarrow \infty} \left(\sqrt{4n^2 - 6n + 17} - 2n \right).$$

$$4(3). \lim_{n \rightarrow \infty} \frac{1 + 6 + 14 + \dots + (5n - 4)}{n^2 - 13}.$$

Найти пределы функций (5-9)

$$5(2). \lim_{x \rightarrow 4} \frac{x^2 - 3x + 2}{3x^2 + 4x - 20}.$$

$$6(2). \lim_{x \rightarrow +\infty} \frac{7x^3 + 8\sqrt{x} - 111}{27x^3 - 3x^2 - 4x}.$$

$$7(3). \lim_{x \rightarrow -\infty} \frac{4x - 1}{\sqrt{25x^2 - 144x + 27}}.$$

$$8(3). \lim_{x \rightarrow +\infty} \sqrt{81x^2 - 13x + 28} - 9x.$$

$$9(3). \lim_{x \rightarrow -\infty} \frac{27x - 15}{\sqrt{9x^2 - 113x + 124}}.$$

10(4). Найдите все асимптоты функции $y = \frac{(x^2 + 12)(2 - 3x)}{x^2}$. Если сумеете, построить *эскиз* графика функции $y = \frac{(x^2 + 12)(2 - 3x)}{x^2}$, то (6).

11(4). Найдите все асимптоты функции $y = \frac{x^2(x-1)}{(x+1)^2}$. Если сумеете построить *эскиз* графика функции $y = \frac{x^2(x-1)}{(x+1)^2}$, то (6).

12(3). Найдите все асимптоты функции $y = \sqrt[3]{\left(1 + \frac{1}{x}\right)^2}$. Если сумеете построить *эскиз* графика функции $y = \sqrt[3]{\left(1 + \frac{1}{x}\right)^2}$, то (6).

Литература:

Журнал «ПОТЕНЦИАЛ» №10 и №11, 2005г. «Слово о последовательности».